



MINISTERIO DE EDUCACIÓN  
DIRECCIÓN REGIONAL DE EDUCACIÓN DE PANAMÁ OESTE  
CENTRO EDUCATIVO GUILLERMO ENDARA GALIMANY  
GUÍA DE DEBERES DE GEOGRAFÍA DE PANAMÁ



NOMBRE: \_\_\_\_\_ Nivel: \_\_\_\_\_ TRIMESTRE: I DOCENTE: CELIA M. RIVAS T.

INSTRUCCIONES: Resolver **en páginas de raya para luego pegarlas en su cuaderno** de geografía con la ayuda de un libro de Dominios de Geografía de 7mo (Si ya lo posees), un diccionario o Wikipedia de internet las distintas actividades, **escribe las respuestas a mano.**

Objetivo: Describe y valora el campo de estudio de la geografía para una mejor comprensión de los fenómenos físicos que intervienen en la superficie terrestre.

- Investiga con la ayuda de tu diccionario el significado de las siguientes palabras: Geografía, brújula, astrolabio, mapa, cartografía, meridiano, latitud, longitud, paralelo, fauna, flora, relieve.
- Menciona tres personajes que han aportado a la geografía antigua, es decir en la Edad Antigua. Por ejemplo el Aristóteles, Eratóstenes, Claudio Ptolomeo, Hiparco de Nicea, Estrabón, entre otros.
- Los avances tecnológicos que permitieron el descubrimiento del nuevo mundo fueron: brújula, astrolabio, carabela, cuadrante, sextante, reloj de arena, mapas portulanos, elige tres investigalos y **dibújalos**.
- Escribe diez ciencias auxiliares de la geografía, elige cinco para que le coloques su significado e ilústrala con **imagen o dibujo**. (Puedes colocar las que ya tienes en tu cuaderno☺).
- Investiga el significado de las ramas o división de la Geografía: Geografía General o Sistemática y Geografía Regional o Coreográfica.
- Investiga que es la cartografía, mapa y escribe el significado de sus elementos: escala, simbología, proyecciones y red de coordenadas.
- Investiga, **dibuja y colorea** cómo se representa a través de símbolos en un mapa lo siguiente: ferrocarril, pueblo, centro educativo, iglesia, aeropuerto, red fluvial.

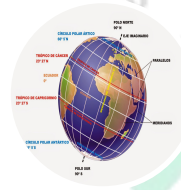
Fecha de entrega a la administración 15/3/2020

2013



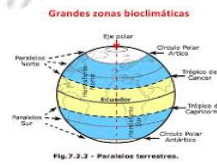
Mapa es

\_\_\_\_\_  
\_\_\_\_\_  
\_\_\_\_\_



Uno de los elementos del mapa es

\_\_\_\_\_



La red de Coordenadas se clasifican en

Meridianos,



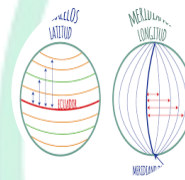
Imagen o figura utilizada en el mapa que representa

\_\_\_\_\_



Imagen o símbolo utilizada en el mapa que representa

\_\_\_\_\_



longitud, hemisferios terrestres.

- Completa el mapa conceptual sobre la representación geográfica de la tierra 10 puntos.

Fecha de entrega a la administración 15/3/2020

Profa. Celia Rivas

**Criterios a evaluar**

**Valor 30 pts.**

\*Puntualidad \_\_\_\_ (5)

\*Aseo (no usar líquido corrector) \_\_\_\_ (5)

\*Ilustración \_\_\_\_ (5)

\*Contenido \_\_\_\_ (10)

\*Escrito a mano \_\_\_\_ (5)

Calificación \_\_\_\_