



## MINISTERIO DE EDUCACIÓN


### CENTRO EDUCATIVO BILINGÜE GUILLERMO ENDARA GALIMANY

#### Guía de estudio

Asignatura: Ciencias sociales

Elaborado por: Inanova Gómez

Niveles 6° A B C D



Recuerda, eres y serás lo más importantes en este proceso. Si tienes dudas consulta. “El que más pregunta, es el que menos se equivoca”.

## INDICACIONES GENERALES:



Esta guía está redactada en con un vocabulario apto para tu comprensión, encontrarás un glosario para que lo desarrolles y puedas comprender cada uno de los contenidos y actividades presentadas que deberás realizar como reforzamiento del contenido leído, al igual que un cuestionario que deberás desarrollar en tu cuaderno. No es necesario que las actividades las desarrolles en tu cuaderno, la podrás hacer directamente en las páginas, el glosario y el cuestionario, si lo debes transcribir en tu cuaderno de ciencias sociales. Te puedes apoyar del Internet o de cualquier libro de Ciencias sociales de 6° grado que tengas a mano. Engrapa el trabajo y recuerda tenerlo a mano desarrollado el día que podamos regresar al colegio. Se les quiere y valora.

## Banco de palabras

### Actividad #1

Para comprender aún más por cada tema deberás desarrollar un banco de palabras que te servirán de apoyo en la comprensión de los diferentes contenidos que encontrarás desarrollado en este cuadernillo.

- A. Continente
- B. Diversidad
- C. Recursos
- D. Ístmica
- E. Insular
- F. Puntos cardinales
- G. Hemisferio
- H. Geografía
- I. Red geográfica
- J. Coordenadas geográficas

Criterios de evaluación del glosario		
1.	Adecuada investigación del significado de las palabras encontrándose coherencia entre el significado y el tema desarrollado	
2.	Presentación del glosario( limpieza y orden) no más de tres renglones	
3.	No incurre en errores ortográficos ni gramaticales	
4.	Ilustración de cada una de las palabras	
5.	Presenta la actividad en la fecha indicada	

Muy bueno :4 pts

Bueno : 2 pts

Deficiente : 0 pts

	Fecha de entrega
6° A	
6° B	
6° C	
6° D	

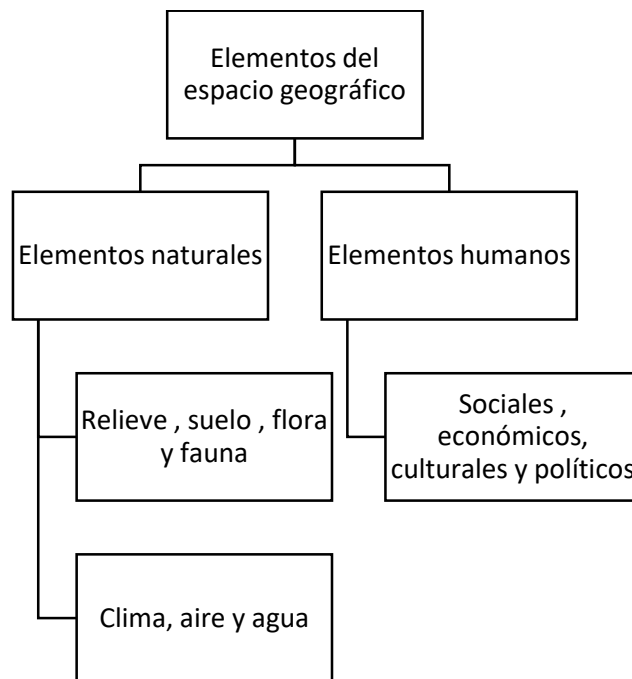
## Lección #1

### El espacio geográfico y sus generalidades

En la antigüedad los griegos pensaban que la Tierra era plana y los árabes sostenían que era cuadrada. Sin embargo, con el paso del tiempo se comprobó que es redonda tiene forma geoide y gira sobre un eje terrestre.

El continente americano es el segundo continente más extenso del planeta Tierra, posee un vasto espacio geográfico, espacio geográfico es el objeto del conocimiento de la geografía, porque es el conjunto de elementos naturales y humanos integrados entre sí, que modifican el medio natural de un continente.

Entre los elementos naturales y humanos que forman parte del espacio geográfico de un continente, podemos mencionar




Antes de la llegada de Cristóbal Colón a el continente, los vikingos estuvieron en esta región desde el siglo IX d. C, aunque sus exploraciones fueron efímeras. Los europeos iniciaron sus primeros viajes de exploración al continente americano, a finales del siglo xv.

## Origen del nombre América

Colón llamó indios a las personas que encontró en las tierras americanas pues creyó haber llegado a las Indias Orientales, De este lugar provenían las buscadas especias para condimentar alimentos como la nuez moscada, el clavo de olor y la pimienta. Colón murió sin saber que había llegado a un nuevo continente.

América se reconoció como un continente novedoso por los conquistadores que vinieron luego. Fue el cartógrafo florentino Américo Vesputio que hizo circular los primeros mapas de estas tierras, razón por la cual se le atribuyó su nombre al continente.



La nueva visión desató el interés entre los europeos por explorarlas, conocerlas bien dominar a los pueblos autóctonos, extraer la mayor cantidad de riquezas naturales, eliminar la cultura existente y exterminar una gran cantidad de indígenas. De pasó surgió una cultura mestiza con el aporte de elementos de los españoles, indígenas y negros.

América es el continente donde vivimos. En este se encuentra una gran diversidad de recursos y elementos físicos- geográficos que lo singularizan.

América está integrada por tres regiones: América del Norte, América Central y América del Sur. En cada una de estas regiones, existen diversas formas de relieve y especies particulares de flora y fauna. En América Central, se localizan dos subregiones: América Central Istmica y América Central Insular. Panamá se ubica en la primera.

### ¿Cuáles son las regiones y países de América?

- América es un continente en el que se pueden diferenciar dos grandes masas de tierra unidas por una angosta franja. Según su forma, el continente se dividió en regiones que nos permiten estudiarlo mejor. Las tres regiones geográficas son América del Norte, América Central y América del Sur.



## Localización de un punto en la Tierra



Para situar ciudades, objetos o personas en la superficie terrestre se utilizan los puntos cardinales (norte, sur, este y oeste): pero si se desea localizar exactamente un punto en la Tierra. Se debe buscar el paralelo y meridiano que pasan por esos puntos, es decir, es preciso, conocer sus coordenadas geográficas.

### ¿Qué aprendí? Cuestionario # 1

- I. Contesto correctamente en mi cuaderno, vaya directamente a la respuesta.
  1. ¿Qué forma tenía la tierra de acuerdo con los griegos?
  2. ¿Qué forma tenía la tierra, según los árabes?
  3. ¿Cuál es el segundo continente más extenso del planeta? ¿Quién crees tú que es el primero?
  4. En qué siglo los europeos inician sus primeros viajes de exploración?
  5. Antes de la llegada de Cristóbal Colón ¿Qué grupos ya habían visitado a lo que hoy llamamos América?
  6. ¿Por qué Colón llamó indios a las personas que encontró en las tierras americanas?
  7. ¿A quién se le atribuye el nombre del continente americano y por qué?
  8. ¿Qué consecuencias trajo consigo tal descubrimiento enumere?
  9. ¿Cómo está integrada el continente americano?
  10. Explique cómo está estructurada América Central
  11. ¿A qué llamamos puntos cardinales y para qué nos sirven?

### Actividad # 2

#### Trabajo individual

- ❖ Trabaja en el siguiente croquis del continente americano y realiza las siguientes actividades.

1. Observa el mapa de América y contesta lo que se te solicita.
  - A. Pinta de rojo a Panamá
  - B. Panamá es un país insular o ístmico: \_\_\_\_\_
  - c. Panamá se encuentra cerca del Ecuador: \_\_\_\_\_
  - d. ¿Cuáles son los países más cercanos a Panamá? ¿Qué relación tiene Panamá con esos países? Explique

---

---

---

---

---

---

2. Escribe los 4 puntos extremos del continente americano; norte, sur, este y oeste.
- a. Colorea de color naranja América del norte, de amarillo América del sur y de color verde América Central y América Insular o las Antillas,
  - b. Escribe el nombre de los océanos que rodean el continente americano y coloréalos de color celeste.



Criterios a evaluar					
	5	4	3	2	1
Desarrollo de forma individual los puntos 1 y 2					
Responsabilidad					
Completo cada una de los puntos establecido en las actividades					
Aseo y pulcritud					
Siguió indicaciones					
Total de puntos					